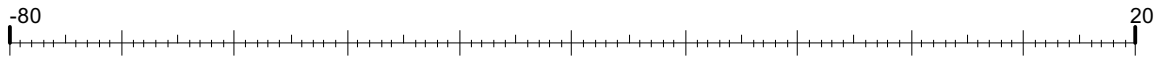
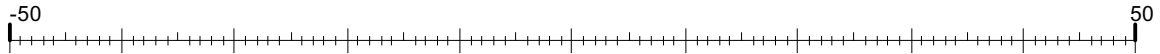


kleine Aufgaben zu ganzen Zahlen

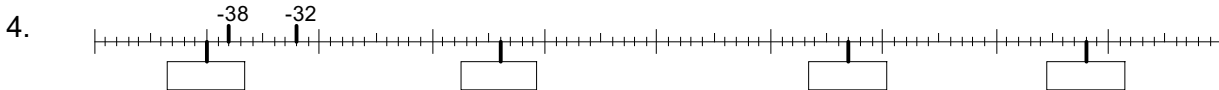
1. Markiere folgende Zahlen: -62; -55; -17; 6



2. Markiere folgende Zahlen: -43; -20; 11; 41



Bestimme die Zahlen an den markierten Stellen



5. Markiere folgende Zahlen: -310; -100; 10; 270



6. An einem Januarmorgen ist es draußen klirrende -18 Grad kalt. Zum Glück ist es in der Wohnung um 39 Grad wärmer. Wie warm ist es drinnen?

Lösung:

7. Die höchste Temperatur, die in einem Land gemessen wurde, betrug 35°C . Die kälteste Temperatur betrug -15°C . Wie groß ist der Unterschied?

Lösung:

8. Frau Fricke hat auf ihrem Konto ein Minus von 70 €. Nach einer Einzahlung steht es auf 50 € Plus. Wie viel hat sie eingezahlt?

Lösung:

9. Herr Maier hat 82 € auf seinem Konto. Nach einer Überweisung weist sein Kontostand ein Minus von 24 € auf. Wie viel hat er überwiesen?

Lösung:

10. Frau Müllers Konto weist ein Plus von 260 € auf. In einer Woche gibt es folgende Vorgänge:

- a) Sie überweist 484 € ein. b) Die Miete von 840 € wird abgebucht.
c) Sie löst einen Scheck von 675 € ein, der ihr gutgeschrieben wird.

Wie ist ihr Kontostand danach?

Lösung: