

Ordne die Zahlen nach der Größe

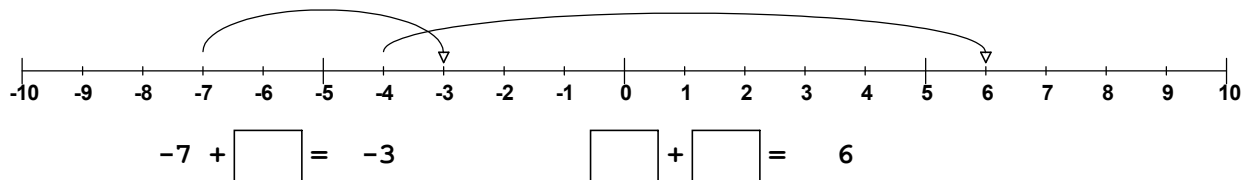
1.    -44    5    79    18    -89    -52    -55    9    -33    -4    -8    34    -63

2.    -11    -60    -64    -27    -39    -90    -72    -21    -14    -7    -85    -51    -56

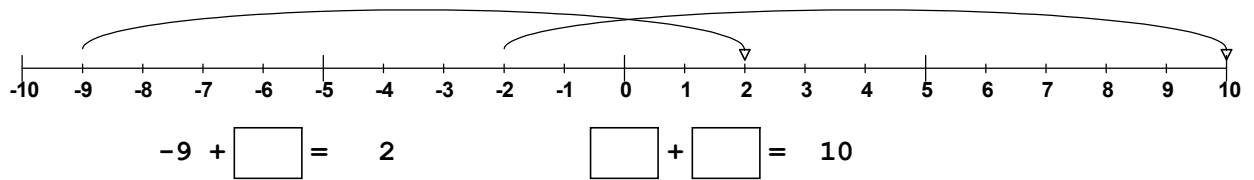
3.    -34    86    -1    -4    56    33    -22    -42    -64    -19    52    -38    29

Ergänze die Aufgaben passen zu den Pfeilen an der Zahlengeraden!

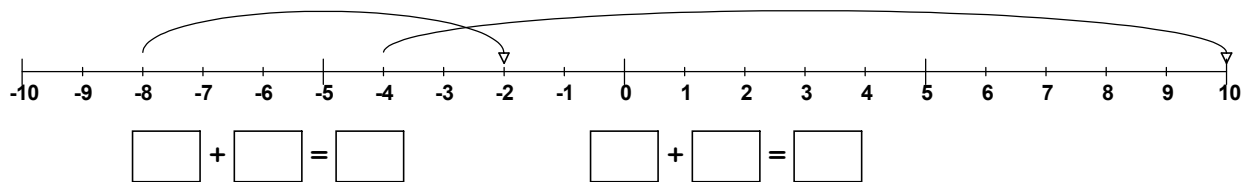
4. .



5. .



6. .



7. .

